

БЛАНК ОТВЕТОВ

Теоретический тур

ШИФР: 2-10-5

1. 35

1	2	3	4	5
↖ -	Г +	Б +	А -	В -

2. 35

1	2	3	4	5
Малая Азия +	-	Финляндия +		Космодромы +

3. Амазонка + 15

4. Виктория -

5. А + 15

6. А + 15

7. Г + 15

8.

1	2	3	4
Г +	В +	Б +	А +

45

9. В + 15

10. А + 15

11. А⁺, Г⁺, Е⁺, З⁺ - 45

12. 2 -

13. 3 + 15

14. 3 + 15

15. А -

Практический тур

1.

1. Ошибка в логическом ряду	Ленинград.	40.
2. Обоснование исключения	Ленинград обитает в промышленном центре, а остальные в пустынной местности.	

2.

Полынные земли расположены в Татарстане, на побережье Каспийского залива. Эти земли ниже уровня моря. 40

3.

№	Объединяющий признак	Белая ворона	Объяснение	Продолжение логического ряда
1		Волгоград		
2	Все города столицы	Барнаул	Центр Алтайского края	Тюмень 10
3	Расположены в западной части	Забайкальский край	Расположен в восточной части	Каменинградская область
4	Нет морского побережья	Владивосток	имеет порт	Усинский Новгород
5	Город-курорт	Зима	не похожи как курорт	Сочи 10

Итого: 350
350

Евдоким Е.В. ЕВ
Виталий ? ?

БЛАНК ОТВЕТОВ

ШИФР: 2-10-3

Теоретический тур

1.

1	2	3	4	5
A -	Г +	Б +	А +	В -

35

2.

1	2	3	4	5
Малая Азия +	-	-	Юкатан +	Коммерция +

35

3. Амазонка +

15

4. Виктория -

5. А + 15

6. А + 15

7. ГВ + 15

8.

1	2	3	4
Г +	В +	Б +	А +

15

9. В + 15

10. В -

11. А +, Е +, З +, Г + 45

12. 4 + 15

13. 3 + 15

14. 3 + 15

15. А -

Практический тур

1.

1. Ошибка в логическом ряду	Ленинград	45
2. Обоснование исключения	Выживает в тропиках, все остальные животные обитают в пустыне.	

2.

05

3.

№	Объединяющий признак	Белая ворона	Объяснение	Продолжение логического ряда
1	Много городов.	Красноярск	г. Золотая Кирити	Новосибирск.
2				-
3	Восточная сторона.	Западный край	находится в восточной стороне	Каминичинская область
4	Курортный город.	Владивосток	порт.	Ростов-на-Дону Санкт-Петербург.
5	Города курортных.	Зима	курортный город.	Сочи. 10

Итого: 275 Елена Е.В. (С) 275 Катя 9.7. 27

БЛАНК ОТВЕТОВ

Теоретический тур

ШИФР: 2-10-6

1.	1	2	3	4	5
	В +	Г +	Б +	А +	Д +

50

2.	1	2	3	4	5
				/.	

05

3. Амазонка +

4.

5. А +

6. А +

7. Г +

8.	1	2	3	4
	Г +	А -	Б +	В -

25

9. Г -

10. А +

11. А⁺В⁺З⁺Е⁺ 35

12. 4 +

13. 2 -

14. 3 +

15. 6 -

Практический тур0м

1.

1. Ошибка в логическом ряду	<i>Амстага Лешивец</i>	<i>2б</i>
2. Обоснование исключения	<i>Химизин Ок облетает</i>	

2.

Земли нити урбана моря. В Памске. *4б+3б карта*

3.

№	Объединяющий признак	Белая ворона	Объяснение	Продолжение логического ряда
1	<i>Выращивание</i>			
2	<i>Города России</i>	<i>Козьм</i>		
3				
4	<i>Европейская часть</i>			
5	<i>Города - курорты</i>	<i>Зима</i>		

исюю: 2бб - Сатиша Э? Ат
2бб Елиза ЕР

БЛАНК ОТВЕТОВ

Теоретический тур

ШИФР: 2-10-7

1. 35

1	2	3	4	5
В +	Г +	Б +	А +	Д +

2.

1	2	3	4	5

3. Амазонка 15

4. Днепровое озеро. 15

5. А 15

6. -

7. Г 15

8.

1	2	3	4	25
Г +	А -	Б +	В -	

9. А -

10. А 15

11. ВГЗ 25

12. 4 15

13. 2 -

14. 3 15

15. В -

Практический тур0м

1.

1. Ошибка в логическом ряду	Анаста Лекивич	25
2. Обоснование исключения	Хитуник он обитает во вл. мюу, а не в полулетоже.	25

2.

Побережье Курильского залива, г. Полесск, Слабен.
Болотистая земля.

45

3.

№	Объединяющий признак	Белая ворона	Объяснение	Продолжение логического ряда
1		Краснодарск		
2	Города России	Кызыл		
3		Иркутск		
4	Европейская часть	Забайкальский край		
5	Города - курорты	Белокуриха		

05

Итого: 245 Елена ЕВ(ЕВ)
245 Катина 9.2 Дел.

БЛАНК ОТВЕТОВ

ШИФР: 2-9-6

Теоретический тур

1.

1	2	3	4	5
D -	2 +	6 -	9 +	5 -

25

2.

1	2	3	4	5
Малая Азия +	Вулканский п-ов +	Гюльида +	Юкатан +	Калифорния +

55

3. Амазонка 15

4. Байкал -

5. А + 1.5

6. А + 15

7. В -

8.

1	2	3	4
Г	В	Б	А

4.5

9. АГ -

10. В -

11. Г, З, А 35

12. 4 15

13. 4 -

14. 3 15

15. 2 15

Практический тур

1.

1. Ошибка в логическом ряду	Ленивец	45
2. Обоснование исключения	не жители пустыни	

2.

Причина формирования пльедров является то, что они ниже уровня моря.
 Р-Н Куршского залива, г. Полсек

3.

№	Объединяющий признак	Белая ворона	Объяснение	Продолжение логического ряда
1	Убавная металлургия отрасли хоз.	Красноуральск	Ал	Орек
2	Административный центр республики	Барнаул	центр Алтайского края	Сыктывкар
3	Находится на одной из Транссиб	Сарайов	Все города находятся в сара- ио на	Новосибирск
4	Географ. положение	Калужская обл.	не на границе	Калужская обл
5	Курорты	Зима	не курорт	Сочи

Итого: 355 Елена Е. В. (ЕВ)
 355. Виталия Р. П. (ВР)

БЛАНК ОТВЕТОВ

Теоретический тур

ШИФР: 2-9-21

1. (50)

1	2	3	4	5
В +	Г +	Б +	А +	А +

2. (05)

1	2	3	4	5

3. Амазонка + (15)

4. -

5. А + (15)

6. А + (15)

7. Г + (15)

8. (45)

1	2	3	4
Г +	В +	Б +	А +

9. Б -

10. В -

11. А, А, Г, З + (35)

12. З -

13. З + (15)

14. Г -

15. А -

Практический тур

1.

1. Ошибка в логическом ряду	Миниблиз ++	45
2. Обоснование исключения	Нет в слове, Южной Америке	

2.

Толщина, † земли ниже уровня моря. ††
 Саванн. 45

3.

№	Объединяющий признак	Белая ворона	Объяснение	Продолжение логического ряда
1	добыча горных пород	Новокузнецк	В Новокузнецке нет добычи гор. пород.	Ишимский
2				
3	Наличие метро	Саратов	Отсутствует метро в Саратове	Санкт-Петербург
4	находится на востоке	Республика Дагестан	Республика Дагестан находится на юго-западе	Республика Тыва
5	город-курорт	Зима	Зима не входит в список городов-курортов России	Сочи

Итого: 265 Елена ЕВ (ЕВ)
 268. Саша ?? (РФ)

БЛАНК ОТВЕТОВ

Теоретический тур

ШИФР: 2-8-15

1.

1	2	3	4	5
А Б -	Г +	В -	А +	Б Д +

30

2.

1	2	3 +	4
		Аравийский	

10

3. Нил. —

4. Онежское в Карелии +

5. А +

6. В —

7. В. А —

8.

1	2	3	4
Г	В	Б	А

40

9. В 10

10. А 10

Практический тур

1.

1. Ошибка в логическом ряду	Ленинград. 20
2. Обоснование исключения	он обитает в лесу Амурского.

2. карта 30

Уточню 195 Егорова Е.В. 
195 Ситникова Е.В. 

БЛАНК ОТВЕТОВ

Теоретический тур

ШИФР: 2-8-14

1.

1	2	3	4	5
В	Г	Б	А	Д

58

2.

1	2	3	4
		Аравийский	Сомали

25

3. Литт Амазонка. 15

4. _____ 15

5. A 15

6. A 15

7. Г 15

8.

1	2	3	4	
Г +	А	Б	В -	25

9. В 15

10. A 15

Практический тур

1.

1. Ошибка в логическом ряду	<u>Двуногий верблюд</u>
2. Обоснование исключения	<u>Самое большое животное из перечисленных</u>

2. Полесск, ниже уровня моря. 45

Итого 195 Елена Е.В.ЕД
196. Страница 87. АИД

БЛАНК ОТВЕТОВ

Теоретический тур

ШИФР: 2-8-13

1.

1	2	3	4	5
В +	П +	Б +	А +	Д +

50

2.

1	2	3	4
Итальянский -	Германский +	Аравийский +	Сомалийский -

35

3. Бассейн реки Амазонка

15

4.

-

5. А)

15

6. В)

-

7. а)

-

8.

1	2	3	4
П) +	В) +	А)	Б)

25

9. Г)

-

10. А)

+15

Практический тур

1.

1. Ошибка в логическом ряду	1) Двугорбый верблюд 2) Сурикат
2. Обоснование исключения	1) Обитает в пустынях, 2) Обитает в экваториальной зоне

2.

карта 35.

Итого 165 баллов 20 20
165 Страница 2? Ответ

БЛАНК ОТВЕТОВ

Теоретический тур

ШИФР: 2-7-20

1.

1	2	3	4	5
В +	Г +	Б +	А +	А +

55

2.

1	2	3	4

05

3. Амазонка 15

4. 05

5. А 15

6. А 15

7. Г 15

8.

1	2	3	4	
Г +	В -	Б +	А +	35

9. В 15

10. А 15

Практический тур

1.

1. Ошибка в логическом ряду	Ленинград 25
2. Обоснование исключения	Другое место обитания —

2.

Болотистые земли, ниже уровня моря. Город Полесье, город Славск 45

Итого 205 Егорова Е.В. 205 Сатина Е.Т. 205

БЛАНК ОТВЕТОВ

ШИФР: 2-4-4

Теоретический тур

1.

1	2	3	4	5	
А	Г	В	А	В	30

2.

1	2	3	4	
Балканский	Пиринский	Аравийский	Сомали	30

3. Пена —

4. Байкал —

5. А +

6. ВА +

7. ВГ +

8.

1	2	3	4	
Г	В	Б	А	40

9. В 10

10. А 10

Практический тур

1.

1. Ошибка в логическом ряду	Сурикат —
2. Обоснование исключения	Лисица предпочитает листья, А сурикат насекомых —

2.

Побережье Куршского залива. Болотистая местность, ниже уровня моря. 40

Итого 195 баллов. 195 баллов? 195

БЛАНК ОТВЕТОВ

ШИФР: 2-4-13

Теоретический тур

1.

1	2	3	4	5
Д -	Г +	Б +	А +	В -

30

2.

1	2	3	4
фрагмент -			

3. ~~Амазонка~~ Амазонка 15

4. Байкал -

5. А 15

6. А 15

7. В 2 15

8.

1	2	3	4
Г	В	Б	А

40

9. 2 -

10. А 15

Практический тур

1.

1. Ошибка в логическом ряду	Ленинград и Мурманск 15
2. Обоснование исключения	Ленинград это город, а Мурманск это населенный пункт

2.

Земли ниже уровня моря. Восточнее 45
г. Норильск.

№110: 185. Енисей (Е) 186. Саяны ? ? (В)

БЛАНК ОТВЕТОВ

Теоретический тур

ШИФР: 2-7-6

1.

1	2	3	4	5	
В +	5 -	Г -	А -	А -	15

2.

1	2	3	4	
			Совмещ.	+ 15

3. Илазунга 15

4. Окотина озеро 15

5. Тунис, дольмит. + 15

6. Прикаспийская - назочность + 15

7. Г) 1:5.000 -

8.

1	2	3	4	
Г +	А -	Б В +	В -	25

9. В + 15

10. А + 15

Практический тур

1.

1. Ошибка в логическом ряду	Двусорбы Верблюды - сурияка в су - сурикам - Лисаца - фенек -
2. Обоснование исключения	напомню все моря потому что это змея и она не живёт в пустыне.

2.

Нитис урваня моря + 2. Поласек, г. Савокт. +

Водителая местность + 75

Итого 175 Елена Е. В. Е. В.
175 Катяна ? ? ?

БЛАНК ОТВЕТОВ

Теоретический тур

ШИФР: 2-7-15

1.

1	2	3	4	5
Д -	Г +	Б +	А +	В -

30

2.

1	2	3	4

3. Амазонка 10

4. Ким -

5. А 10

6. Б -

7. Г 10

8.

	1	2	3	4
	Г +	А -	Б +	В -

20

9. Г

10. А 10

Практический тур

1.

1. Ошибка в логическом ряду	лекивец 20
2. Обоснование исключения	живет в экват. лесу, а не тундре. 20

2.
 Земли ниже уровня моря.
 В районе города Полесска, г. Словенск. 10

Итого 170. Егорова Е.В.
 170. Саткина Е.В.

БЛАНК ОТВЕТОВ

ШИФР: 2-4-5

Теоретический тур

1.

1	2	3	4	5
B	Г	Б	А	А В

 50
2.

1	2	3	4
Аппенинские			СМАМ

 20
3. 05
4. 05
5. А 15
6. ГД 15
7. Б 15
8.

1	2	3	4
Г	Б	Б	А

 40
9. А, В 15
10. В —

Практический тур

- 1.
- | | |
|-----------------------------|---------------|
| 1. Ошибка в логическом ряду | не ленивар 20 |
| 2. Обоснование исключения | — |
2. 05

Итого: 175 Елена Е.В. ЕМ
175 Катерина Е.В. Олиф

БЛАНК ОТВЕТОВ

Теоретический тур

ШИФР: 2-7-4

1.

1	2	3	4	5
Б +	Г +	Д -	А +	Б -

35

2.

1	2	3	4
Альпийский - Аппенинские	Греноканди	Индийский	Куршская Солонч

25

3. Или -

4. Киреева -

5. Б -

6. Г -

7. Г + 15

8.

1	2	3	4
Г	В	Б	А

45

9. В 15

10. А 15

Практический тур

1.

1. Ошибка в логическом ряду	Двухрбовый верблюд	-
2. Обоснование исключения	Он цветет в пустыне	-

2.

Польдорные земли находятся в районе г. Томска, Куршский залив. Болота. 55

Итого 175 Елиза Е.В. (20)
175 Савиленко Е.А. (20)

БЛАНК ОТВЕТОВ

Теоретический тур

ШИФР: 2-6-12

1.

1	2	3	4
Г	А	Б	В

++++ 45

2.

1	2	3	4
4	3	2	1

—

3. Новая Зеландия —

4. Тунис —

5. Д —

6. д +15

7. ВГ +15

8.

1	2	3	4
А	В	Б	А




45

9. А, Б ++ 25

10. А, Б ++ 25

Практический тур

1.

	Широколиственный лес
	Ключ, родник
	Сплошные заросли кустарника

+
+25

2.

Объект	Сторона горизонта
Еловый лес	СВ
Болото	Ю
Тропинка	З
Дом	ВЮ

+
+ 45
+
+

3. 10°

35

Итого 235 Ельцов Е.В. (С) 238. Сажина Е.А. (С)

БЛАНК ОТВЕТОВ

Теоретический тур

ШИФР: 2-6-7

1.

1	2	3	4
В	А	Г	Б

+

2.

1	2	3	4
Гедизенная			

+

3. Тришангва +

4.

5. да +

6. а +

7. в +

8.

1	2	3	4
Г	В	А ←→ Б	



++++

9. а -

10. а, б, в +++

Практический тур

1.

	Широколиственный лес	+
	Ключ, родник	
	Сплошные заросли кустарника	

2.

Объект	Сторона горизонта	
Еловый лес	Северо-восток	+
Болото	ЮЗ	+ 40
Тропинка	Золная	+
Дом	Юго-восток	+

3. 10 градусов 35.

Умова 205 Евецка Е.В. (ЕВ)
205 Сатинца Е.В. (СВ)

БЛАНК ОТВЕТОВ

Теоретический тур

ШИФР: 2-6-16

1.

1	2	3	4
В	Г	А	Б

—

2.

1	2	3	4
Средиземное	Чёрное		

25

3. Гренландия

+15

4.

5. Б

+15

6. А

+15

7. Б

—

8.

1	2	3	4
Б	В	А	Г

+15

9. а - верно б - верно в - неверно г - верно




+ +25

10. а - неверно б - верно в - верно г - верно

+15

Практический тур

1.

	Широколиственный лес
	Ключ, родник
	Сплошные заросли кустарника

+
+ 25
—

2.

Объект	Сторона горизонта
Еловый лес	СВ
Болото	Ю
Тропинка	З
Дом	ЮВ

45.

3.

10°

35.

Итого 185 Елена Е.В. (ЕВ)
185 Катина Е.П. (КП)

БЛАНК ОТВЕТОВ

Теоретический тур

ШИФР: 2-6-4

1.

1	2	3	4
a	b	б	л

+

2.

1	2	3	4

3. Магдалоскар

4. Онежское озеро +

5. b

6. A +

7. b2 +

8.

1	2	3	4
b	a	б	л




+

9. 2б ++

10. ба ++

Практический тур

1.

	Широколиственный лес
	Ключ, родник
	Сплошные заросли кустарника

+

2.

Объект	Сторона горизонта
Еловый лес	Восток Север
Болото	Юг
Тропинка	Запад
Дом	Юго-Восток

+
+
+

3. Лиственничное дерево - 10° + + +

Итого 165 Елена ЕВ (ЕВ)
165. Саша и Т. Кош

Г-4-2

**Задания школьного этапа Всероссийской олимпиады по географии
2023–2024 учебный год.**

4 класс

Время выполнения заданий – 45 минут

Максимальный балл за все задания – 50 баллов

Уважаемые участники олимпиады, теоретический тур олимпиады включает 4 задания. Внимательно познакомьтесь с характером каждого из них и определите для себя последовательность выполнения работы. Ответы каждого из них запишите в листе ответов.

Начинать работу можно с любого задания, однако, рекомендуется выполнять задания в том порядке, в котором они даны. Если какое-то задание вызывает у вас затруднение, пропустите его и постарайтесь выполнить те, в ответах которых вы уверены. К пропущенным заданиям можно будет вернуться, если у вас останется время.

Часть I. – 20 баллов (по 1 баллу за каждый правильный ответ).

Вопросы с выбором одного правильного ответа из четырех предложенных.

1. В переводе с греческого языка «география» означает

- + а) описание Земли б) изучение Земли в) жизнь на Земле г) изменение Земли

2. Что такое глобус?

- + а) модель Солнца б) модель Земли в) модель шара

3. Какой признак отличает нашу планету от других «планет земной группы»?

- а) имеет твёрдую поверхность
+ б) имеет атмосферу
в) имеет естественный спутник
г) присутствует вода в жидком, твёрдом и газообразном состоянии

4. К объектам живой природы относится

- + а) кристалл б) сосулька в) гриб г) луна

5. Кто из древних ученых первым предположил, что Земля имеет форму шара?

- а) Пифагор б) Птолемей в) Коперник г) Аристотель

6. Отметьте ряд, в котором указаны планеты, входящие в группу планет-гигантов.

- + а) Сатурн, Земля, Марс б) Марс, Венера, Юпитер
в) Земля, Плутон, Уран, Нептун г) Юпитер, Сатурн, Уран, Нептун

7. Дополните утверждение: «На сегодняшний день существует ... материков».

- + а) 8 б) 4 в) 5 г) 6

8. Какой материк называют Новым светом?

- + а) Африка б) Америка в) Антарктида г) Австралия.

9. Как называется прибор для ориентирования на местности?

- + а) компас б) флюгер в) азимут г) барометр

10. Если встать лицом на север, то с правой стороны будет:

- + а) юг б) восток в) запад г) северо – восток

11. Как появилась почва?

- а) она всегда была на планете
- б) в результате извержения вулкана
в) из рыхлого слоя горных пород, измененного растениями и животными
г) в результате распашки полей человеком

12. Какие горы принято считать границей между Европой и Азией?

- + а) Алтайские горы б) Уральские горы
в) Кавказские горы г) Воробьевы горы

13. Какая из перечисленных гор находится в России и является высочайшей вершиной Европы?

- а) Эльбрус б) Эверест
 в) Мак-Кинли г) Килиманджаро

14. Моря какого океана не омывают берега России?

- а) Индийского б) Тихого
 в) Северного Ледовитого г) Атлантического

15. Какая из перечисленных рек находится в России и является самой длинной в Европе?

- а) Енисей б) Лена в) Нева г) Волга

16. В России находится самое глубокое озеро мира. Как оно называется?

- а) озеро Ильмень б) Ладожское озеро
 в) озеро Байкал г) Онежское озеро

17. Полезные ископаемые – это...

- а) все минералы и горные породы, из которых состоит Земля.
 б) минералы и горные породы, которые используют люди
 в) полезные вещества, которые получают из горных пород и минералов.

18. Наиболее обширная природная зона России — это ...

- а) степь б) тундра в) пустыня г) тайга

19. Этот самый большой остров планеты, целиком покрыт льдами. Его коренные жители, эскимосы, занимаются охотой и рыболовством.

- а) Сахалин б) Гренландия в) Гавайи

20. Что такое карта полушарий?

- а) карта, на которой дано изображение какой-то территории.
 б) карта, на которой изображены две половинки земного шара.
 в) карта, на которой изображена Земля.

Часть II.

Разделите приведённые ниже слова на две группы: объекты природы и явления природы.

За каждый правильный ответ начисляется 1 балл.

бактерии	гроза	ледоход	озеро
ветер	землетрясение	листопад	половодье
воздух	камнепад	минералы	дерево
вулкан	родник	облако	спячка

Объекты природы	Явления природы
Бактерии +	Ветер +
Вулкан +	Воздух -
Родник +	Землетрясение +
Ледоход -	Камнепад +
Облако +	Листопад +
Озеро +	Минералы -
Дерево +	Половодье +
Спячка -	Гроза +

Часть III.

За каждый правильный ответ начисляется 1 балл.

26

1. Подбери общий материк для следующих организмов:

утконос, ехидна, кенгуру, дикая собака Динго, райские птицы.

— Ответ: Северная Америка

2. Во всех этих словах течёт древнерусская река, впадающая в Азовское море. Отыщи её название. В ответе напиши получившееся слово.

ЛАДОНЬ, ДОНОС, БИДОН

— Ответ: Бидон

3. Горилла – самая крупная из всех обезьян, живущих на Земле. Иногда ее вес не выдерживают даже большие деревья! Горилла очень сильная: мускулам на ее лапах может позавидовать любой спортсмен. Вспоминай, на каком континенте мы можем увидеть это удивительное животное в естественной среде обитания?

В ответе запиши название континента.

+ Ответ: Африка

4. Выберите ВСЕ правильные ответы.

Медуза – это живое существо, потому что она:

- а) плавает в морях
- б) размножается
- в) питается
- г) может находиться только в воде
- д) дышит

5. Выберите ВСЕ правильные ответы. Выберите из списка животных, занесённых в Красную книгу России.

- + а) белый медведь
- + б) русская выхухоль
- + в) амурский тигр
- г) бурый медведь
- д) лось
- + е) дальневосточный леопард

Часть IV. При выполнении заданий на соответствие к каждой позиции, данной в первом столбце, подберите соответствующую позицию из второго столбца.

25

Установите соответствие между исследователями (а-г) космоса и их достижениями (1-3).

а) Ю. Гагарин	+	1) Первый учёный, который доказал, что реальным средством освоения космоса станет ракета
б) С. Королёв	-	2) Первый полёт человека в космос
в) К. Циолковский	+	3) Организатор производства ракетно-космической техники
г) Н. Пилюгин	-	4) Создатель системы управления ракетами-носителями.

Итого: 345 - Саткина Е.Г. 26
345 - Егорова Е.В. 25

**Задания школьного этапа Всероссийской олимпиады по географии
2023–2024 учебный год.**

4 класс

Время выполнения заданий – 45 минут

Максимальный балл за все задания – 50 баллов

Уважаемые участники олимпиады, теоретический тур олимпиады включает 4 задания. Внимательно познакомьтесь с характером каждого из них и определите для себя последовательность выполнения работы. Ответы каждого из них запишите в листе ответов.

Начинать работу можно с любого задания, однако, рекомендуется выполнять задания в том порядке, в котором они даны. Если какое-то задание вызывает у вас затруднение, пропустите его и постарайтесь выполнить те, в ответах которых вы уверены. К пропущенным заданиям можно будет вернуться, если у вас останется время

Часть I. – 20 баллов (по 1 баллу за каждый правильный ответ).

Вопросы с выбором одного правильного ответа из четырех предложенных.

- 125
1. В переводе с греческого языка «география» означает
 + а) описание Земли б) изучение Земли в) жизнь на Земле г) изменение Земли L
2. Что такое глобус?
 + а) модель Солнца б) модель Земли в) модель шара +
3. Какой признак отличает нашу планету от других «планет земной группы»?
 + а) имеет твёрдую поверхность
 б) имеет атмосферу +
 в) имеет естественный спутник
 г) присутствует вода в жидком, твёрдом и газообразном состоянии
4. К объектам живой природы относится
 + а) кристалл б) сосулька в) гриб г) луна +
5. Кто из древних ученых первым предположил, что Земля имеет форму шара?
 - а) Пифагор б) Птолемей в) Коперник г) Аристотель -
6. Отметьте ряд, в котором указаны планеты, входящие в группу планет-гигантов.
 + а) Сатурн, Земля, Марс б) Марс, Венера, Юпитер +
 в) Земля, Плутон, Уран, Нептун г) Юпитер, Сатурн, Уран, Нептун
7. Дополните утверждение: «На сегодняшний день существует ... материков».
 - а) 8 б) 4 в) 5 г) 6 -
8. Какой материк называют Новым светом?
 - а) Африка б) Америка в) Антарктида г) Австралия. -
9. Как называется прибор для ориентирования на местности?
 + а) компас б) флюгер в) азимут г) барометр +
10. Если встать лицом на север, то с правой стороны будет:
 - а) юг б) восток в) запад г) северо – восток -
11. Как появилась почва?
 а) она всегда была на планете
 б) в результате извержения вулкана
 в) из рыхлого слоя горных пород, измененного растениями и животными
 г) в результате распашки полей человеком
12. Какие горы принято считать границей между Европой и Азией?
 - а) Алтайские горы б) Уральские горы
 в) Кавказские горы г) Воробьевы горы -

13. Какая из перечисленных гор находится в России и является высочайшей вершиной Европы?

- + а) Эльбрус б) Эверест
в) Мак-Кинли г) Килиманджаро

14. Моря какого океана не омывают берега России?

- + а) Индийского б) Тихого
в) Северного Ледовитого г) Атлантического

15. Какая из перечисленных рек находится в России и является самой длинной в Европе?

- + а) Енисей б) Лена в) Нева г) Волга

16. В России находится самое глубокое озеро мира. Как оно называется?

- + а) озеро Ильмень б) Ладожское озеро
в) озеро Байкал г) Онежское озеро

17. Полезные ископаемые – это...

- а) все минералы и горные породы, из которых состоит Земля.
- б) минералы и горные породы, которые используют люди
в) полезные вещества, которые получают из горных пород и минералов.

18. Наиболее обширная природная зона России — это ...

- + а) степь б) тундра в) пустыня г) тайга

19. Этот самый большой остров планеты, целиком покрыт льдами. Его коренные жители, эскимосы, занимаются охотой и рыболовством.

- а) Сахалин б) Гренландия в) Гавайи

20. Что такое карта полушарий?

- + а) карта, на которой дано изображение какой-то территории.
+ б) карта, на которой изображены две половинки земного шара.
в) карта, на которой изображена Земля.

Часть II.

Разделите приведённые ниже слова на две группы: объекты природы и явления природы.

За каждый правильный ответ начисляется 1 балл.

бактерии	гроза	ледоход	озеро
ветер	землетрясение	листопад	половодье
воздух	камнепад	минералы	дерево
вулкан	родник	облако	спячка

Объекты природы	Явления природы
бактерии +	ветер +
вулканы +	воздух -
родник +	гроза +
ледоход -	землетрясение +
минералы +	камнепад +
озеро +	листопад +
дерево +	облако -
спячка -	половодье +

Часть III.

За каждый правильный ответ начисляется 1 балл.

1. Подбери общий материк для следующих организмов:

утконос, ехидна, кенгуру, дикая собака Динго, райские птицы.

Ответ: Южная Америка

2. Во всех этих словах течёт древнерусская река, впадающая в Азовское море. Отыщи её название. В ответе напиши получившееся слово.

ЛАДОНЬ, ДОНОС, БИДОН

Ответ: Дон

3. Горилла – самая крупная из всех обезьян, живущих на Земле. Иногда ее вес не выдерживают даже большие деревья! Горилла очень сильная: мускулам на ее лапах может позавидовать любой спортсмен. Вспоминай, на каком континенте мы можем увидеть это удивительное животное в естественной среде обитания?

В ответе запиши название континента.

Ответ: Африка

4. Выберите ВСЕ правильные ответы.

Медуза – это живое существо, потому что она:

- а) плавает в морях
- б) размножается
- в) питается
- г) может находиться только в воде
- д) дышит

5. Выберите ВСЕ правильные ответы. Выберите из списка животных, занесённых в Красную книгу России.

- а) белый медведь
- б) русская выхухоль
- в) амурский тигр
- г) бурый медведь
- д) лось
- е) дальневосточный леопард

Часть IV. При выполнении заданий на соответствие к каждой позиции, данной в первом столбце, подберите соответствующую позицию из второго столбца.

Установите соответствие между исследователями (а-г) космоса и их достижениями (1-3).

а) Ю. Гагарин	<input checked="" type="checkbox"/>	1) Первый учёный, который доказал, что реальным средством освоения космоса станет ракета.
б) С. Королёв	<input checked="" type="checkbox"/>	2) Первый полёт человека в космос
в) К. Циолковский	<input checked="" type="checkbox"/>	3) Организатор производства ракетно-космической техники
г) Н. Пилюгин	<input checked="" type="checkbox"/>	4) Создатель системы управления ракетами-носителями.

Итого: 345 - Саткина Е.Р. [подпись]
345 - Шава Е.В. [подпись]

**Задания школьного этапа Всероссийской олимпиады по географии
2023–2024 учебный год.**

4 класс

Время выполнения заданий – 45 минут

Максимальный балл за все задания – 50 баллов

Уважаемые участники олимпиады, теоретический тур олимпиады включает 4 задания. Внимательно познакомьтесь с характером каждого из них и определите для себя последовательность выполнения работы. Ответы каждого из них запишите в листе ответов.

Начинать работу можно с любого задания, однако, рекомендуется выполнять задания в том порядке, в котором они даны. Если какое-то задание вызывает у вас затруднение, пропустите его и постарайтесь выполнить те, в ответах которых вы уверены. К пропущенным заданиям можно будет вернуться, если у вас останется время

Часть I. – 20 баллов (по 1 баллу за каждый правильный ответ).

Вопросы с выбором одного правильного ответа из четырёх предложенных.

100

1. В переводе с греческого языка «география» означает

- + а) описание Земли
- б) изучение Земли
- в) жизнь на Земле
- г) изменение Земли

2. Что такое глобус?

- + а) модель Солнца
- б) модель Земли
- в) модель шара

3. Какой признак отличает нашу планету от других «планет земной группы»?

- а) имеет твёрдую поверхность
- б) имеет атмосферу
- в) имеет естественный спутник
- + г) присутствует вода в жидком, твёрдом и газообразном состоянии

4. К объектам живой природы относится

- + а) кристалл
- б) сосулька
- в) гриб
- г) луна

5. Кто из древних ученых первым предположил, что Земля имеет форму шара?

- + а) Пифагор
- б) Птолемей
- в) Коперник
- г) Аристотель

6. Отметьте ряд, в котором указаны планеты, входящие в группу планет-гигантов.

- + а) Сатурн, Земля, Марс
- б) Марс, Венера, Юпитер
- + в) Земля, Плутон, Уран, Нептун
- г) Юпитер, Сатурн, Уран, Нептун

7. Дополните утверждение: «На сегодняшний день существует ... материков».

- а) 8
- б) 4
- в) 5
- г) 6

8. Какой материк называют Новым светом?

- а) Африка
- б) Америка
- в) Антарктида
- г) Австралия.

9. Как называется прибор для ориентирования на местности?

- + а) компас
- б) флюгер
- в) азимут
- г) барометр

10. Если встать лицом на север, то с правой стороны будет:

- а) юг
- б) восток
- в) запад
- г) северо – восток

11. Как появилась почва?

- а) она всегда была на планете
- б) в результате извержения вулкана
- в) из рыхлого слоя горных пород, измененного растениями и животными
- + г) в результате распашки полей человеком

12. Какие горы принято считать границей между Европой и Азией?

- а) Алтайские горы
- б) Уральские горы
- + в) Кавказские горы
- г) Воробьевы горы

13. Какая из перечисленных гор находится в России и является высочайшей вершиной Европы?

- а) Эльбрус б) Эверест
в) Мак-Кинли г) Килиманджаро

14. Моря какого океана не омывают берега России?

- а) Индийского б) Тихого
в) Северного Ледовитого г) Атлантического

15. Какая из перечисленных рек находится в России и является самой длинной в Европе?

- а) Енисей б) Лена в) Нева г) Волга

16. В России находится самое глубокое озеро мира. Как оно называется?

- а) озеро Ильмень б) Ладожское озеро
в) озеро Байкал г) Онежское озеро

17. Полезные ископаемые – это...

- а) все минералы и горные породы, из которых состоит Земля.
б) минералы и горные породы, которые используют люди
в) полезные вещества, которые получают из горных пород и минералов.

18. Наиболее обширная природная зона России — это ...

- а) степь б) тундра в) пустыня г) тайга

19. Этот самый большой остров планеты, целиком покрыт льдами. Его коренные жители, эскимосы, занимаются охотой и рыболовством.

- а) Сахалин б) Гренландия в) Гавайи

20. Что такое карта полушарий?

- а) карта, на которой дано изображение какой-то территории.
б) карта, на которой изображены две половинки земного шара.
в) карта, на которой изображена Земля.

Часть II.

135) Разделите приведённые ниже слова на две группы: объекты природы и явления природы.

За каждый правильный ответ начисляется 1 балл.

бактерии	гроза	ледоход	озеро
ветер	землетрясение	листопад	половодье
воздух	камнепад	минералы	дерево
вулкан	родник	облако	спячка

Объекты природы	Явления природы
вулкан, родник, ледоход, минералы, озеро, дерево, облако.	бактерии, ветер, воздух, гроза, землетрясение, камнепад, листопад, половодье, спячка.

Часть III.

За каждый правильный ответ начисляется 1 балл.

186

1. Подбери общий материк для следующих организмов: утконос, ехидна, кенгуру, дикая собака Динго, райские птицы.

Ответ: Кенгуру

2. Во всех этих словах течёт древнерусская река, впадающая в Азовское море. Отыщи её название. В ответе напиши получившееся слово.

+ ЛАДОНЬ, ДОНОС, БИДОН

Ответ: дон, ладо, дом, дом.

3. Горилла – самая крупная из всех обезьян, живущих на Земле. Иногда ее вес не выдерживают даже большие деревья! Горилла очень сильная: мускулам на ее лапах может позавидовать любой спортсмен. Вспоминай, на каком континенте мы можем увидеть это удивительное животное в естественной среде обитания?

В ответе запиши название континента.

Ответ: Африка

4. Выберите ВСЕ правильные ответы.

Медуза – это живое существо, потому что она:

- а) плавает в морях +
- б) размножается +
- в) питается +
- г) может находиться только в воде +
- д) дышит +

5. Выберите ВСЕ правильные ответы. Выберите из списка животных, занесённых в Красную книгу России.

- + а) белый медведь
- + б) русская выхухоль
- + в) амурский тигр
- г) бурый медведь
- д) лось
- + е) дальневосточный леопард

Часть IV. При выполнении заданий на соответствие к каждой позиции, данной в первом столбце, подберите соответствующую позицию из второго столбца.

25

Установите соответствие между исследователями (а-г) космоса и их достижениями (1-3).

а) Ю. Гагарин +	1) Первый учёный, который доказал, что реальным средством освоения космоса станет ракета
б) С. Королёв +	2) Первый полёт человека в космос
в) К. Циолковский -	3) Организатор производства ракетно-космической техники
г) Н. Пилюгин -	4) Создатель системы управления ракетами-носителями.

+ + - -

Итого: 338. Сатиша Е.Г. Дад.
335. Елена Е.В. Дад.

**Задания школьного этапа Всероссийской олимпиады по географии
2023–2024 учебный год.**

4 класс

Время выполнения заданий – 45 минут

Максимальный балл за все задания – 50 баллов

Уважаемые участники олимпиады, теоретический тур олимпиады включает 4 задания. Внимательно познакомьтесь с характером каждого из них и определите для себя последовательность выполнения работы. Ответы каждого из них запишите в листе ответов.

Начинать работу можно с любого задания, однако, рекомендуется выполнять задания в том порядке, в котором они даны. Если какое-то задание вызывает у вас затруднение, пропустите его и постарайтесь выполнить те, в ответах которых вы уверены. К пропущенным заданиям можно будет вернуться, если у вас останется время.

Часть I. – 20 баллов (по 1 баллу за каждый правильный ответ).

158

Вопросы с выбором одного правильного ответа из четырёх предложенных.

158

- 1. В переводе с греческого языка «география» означает
 - + а) описание Земли
 - б) изучение Земли
 - в) жизнь на Земле
 - г) изменение Земли
- 2. Что такое глобус?
 - + а) модель Солнца
 - б) модель Земли
 - в) модель шара
- 3. Какой признак отличает нашу планету от других «планет земной группы»?
 - а) имеет твёрдую поверхность
 - + б) имеет атмосферу
 - в) имеет естественный спутник
 - г) присутствует вода в жидком, твёрдом и газообразном состоянии
- 4. К объектам живой природы относится
 - + а) кристалл
 - б) сосулька
 - в) гриб
 - г) луна
- 5. Кто из древних ученых первым предположил, что Земля имеет форму шара?
 - + а) Пифагор
 - б) Птолемей
 - в) Коперник
 - г) Аристотель
- 6. Отметьте ряд, в котором указаны планеты, входящие в группу планет-гигантов.
 - + а) Сатурн, Земля, Марс
 - б) Марс, Венера, Юпитер
 - в) Земля, Плутон, Уран, Нептун
 - г) Юпитер, Сатурн, Уран, Нептун
- 7. Дополните утверждение: «На сегодняшний день существует ... материков».
 - а) 8
 - б) 4
 - в) 5
 - г) 6
- 8. Какой материк называют Новым светом?
 - а) Африка
 - б) Америка
 - в) Антарктида
 - г) Австралия.
- 9. Как называется прибор для ориентирования на местности?
 - + а) компас
 - б) флюгер
 - в) азимут
 - г) барометр
- 10. Если встать лицом на север, то с правой стороны будет:
 - + а) юг
 - б) восток
 - в) запад
 - г) северо – восток
- 11. Как появилась почва?
 - а) она всегда была на планете
 - б) в результате извержения вулкана
 - в) из рыхлого слоя горных пород, измененного растениями и животными
 - г) в результате распашки полей человеком
- 12. Какие горы принято считать границей между Европой и Азией?
 - + а) Алтайские горы
 - б) Уральские горы
 - в) Кавказские горы
 - г) Воробьевы горы

13. Какая из перечисленных гор находится в России и является высочайшей вершиной Европы?

- а) Эльбрус б) Эверест
в) Мак-Кинли г) Килиманджаро

14. Моря какого океана не омывают берега России?

- а) Индийского б) Тихого
в) Северного Ледовитого г) Атлантического

15. Какая из перечисленных рек находится в России и является самой длинной в Европе?

- а) Енисей б) Лена в) Нева г) Волга

16. В России находится самое глубокое озеро мира. Как оно называется?

- а) озеро Ильмень б) Ладожское озеро
в) озеро Байкал г) Онежское озеро

17. Полезные ископаемые – это...

- а) все минералы и горные породы, из которых состоит Земля.
б) минералы и горные породы, которые используют люди
в) полезные вещества, которые получают из горных пород и минералов.

18. Наиболее обширная природная зона России — это ...

- а) степь б) тундра в) пустыня г) тайга

19. Этот самый большой остров планеты, целиком покрыт льдами. Его коренные жители, эскимосы, занимаются охотой и рыболовством.

- а) Сахалин б) Гренландия в) Гавайи

20. Что такое карта полушарий?

- а) карта, на которой дано изображение какой-то территории.
б) карта, на которой изображены две половинки земного шара.
в) карта, на которой изображена Земля.

Часть II.

Разделите приведённые ниже слова на две группы: объекты природы и явления природы.

За каждый правильный ответ начисляется 1 балл.

бактерии	гроза	ледоход	озеро
ветер	землетрясение	листопад	половодье
воздух	камнепад	минералы	дерево
вулкан	родник	облако	спячка

Объекты природы	Явления природы
бактерии + +	озеро - -
минералы + +	родник - -
вулкан + +	ветер + +
гроза - -	воздух - -
земле - -	гроза + +
камнепад - -	землетрясение +
дерево + +	листопад + +
	облако - -

Часть III.

88) За каждый правильный ответ начисляется 1 балл.

1. Подбери общий материк для следующих организмов:

утконос, ехидна, кенгуру, дикая собака Динго, райские птицы.

+ Ответ: австралия

2. Во всех этих словах течёт древнерусская река, впадающая в Азовское море. Отыщи её название. В ответе напиши получившееся слово.

ЛАДОНЬ, ДОНОС, БИДОН

- Ответ: дон

3. Горилла – самая крупная из всех обезьян, живущих на Земле. Иногда ее вес не выдерживают даже большие деревья! Горилла очень сильная: мускулам на ее лапах может позавидовать любой спортсмен. Вспоминай, на каком континенте мы можем увидеть это удивительное животное в естественной среде обитания?

В ответе запиши название континента.

+ Ответ: африка

4. Выберите ВСЕ правильные ответы.

Медуза – это живое существо, потому что она:

- а) плавает в морях + б) размножается + в) питается + + +
- г) может находиться только в воде + д) дышит

5. Выберите ВСЕ правильные ответы. Выберите из списка животных, занесённых в Красную книгу России.

- + а) белый медведь б) русская выхухоль + + +
- + в) амурский тигр г) бурый медведь
- д) лось + е) дальневосточный леопард

25) Часть IV. При выполнении заданий на соответствие к каждой позиции, данной в первом столбце, подберите соответствующую позицию из второго столбца.

Установите соответствие между исследователями (а-г) космоса и их достижениями (1-3).

+ а) Ю. Гагарин +	1) Первый учёный, который доказал, что реальным средством освоения космоса станет ракета.
+ б) С. Королёв +	2) Первый полёт человека в космос
- в) К. Циолковский -	3) Организатор производства ракетно-космической техники
- г) Н. Пилюгин -	4) Создатель системы управления ракетами-носителями.

Итого: 336. Саткина Е.Р. 335. Егорова Е.В.